

# Magnitudes

Nombre:

Grado:

Fecha:

1 Observa lo que dicen las señoras. Luego, contesta.

Oye Martha,  
entre más tiempo  
pasa veo que estás  
más delgada.



Sí, es que estoy haciendo dieta.  
La primera semana pesé 80 kilos,  
la segunda semana, 77 kilos y la  
tercera pesé 76 kilos.



\* ¿Crees que el tiempo es una magnitud?

.....

\* ¿Por qué?

.....

\* ¿El peso es una magnitud?

.....

\* ¿Por qué?

.....

.....

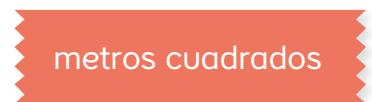
2 Colorea, con el mismo color, las unidades en que se mide cada magnitud.



Tiempo



gramos



metros cuadrados



Peso



centímetros



horas



Longitud



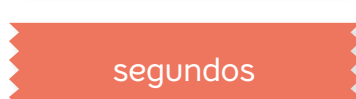
centímetros  
cuadrados



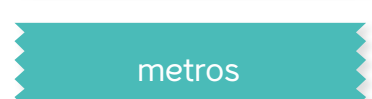
kilogramos



Área



segundos



metros

3 Une, con una línea, cada situación con su respectiva magnitud.

El río Amazonas tiene 6.296 metros de largo.

Temperatura

La temperatura del centro de la Tierra se estima en 6.000 grados centígrados.

Tiempo

El tiempo que pasa entre un latido y otro del corazón es de 0,8 segundos.

Distancia